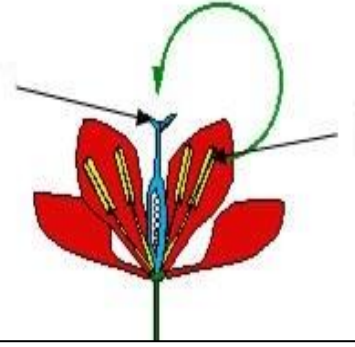


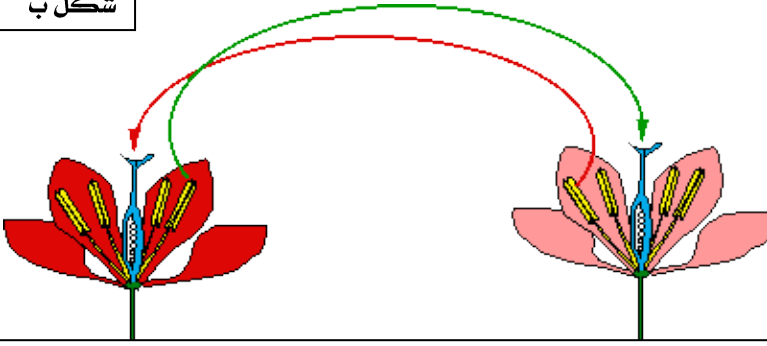
الوثيقة 1: الإخصاب عند نبات زهري

شكل أ



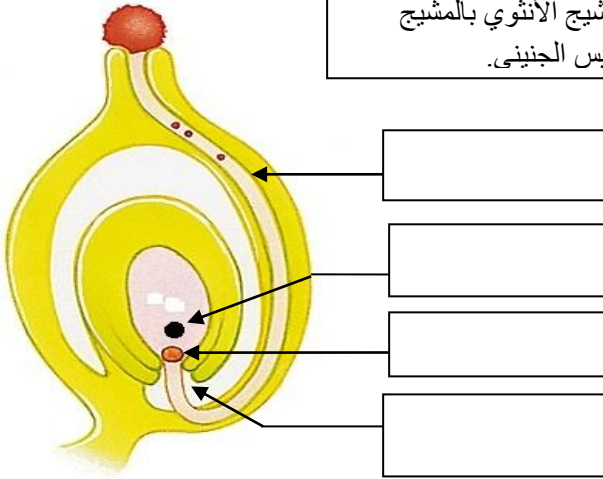
الأبر المباشر

شكل ب

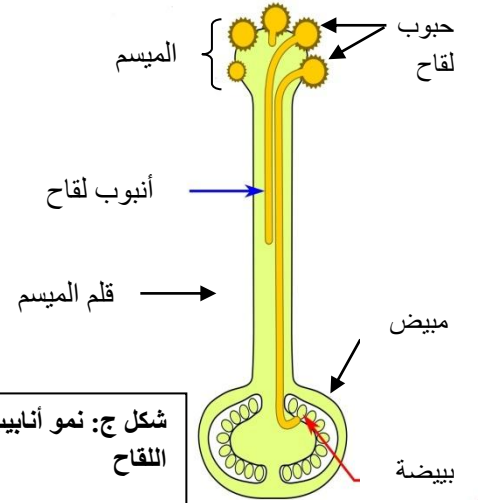


الأبر غير المباشر

شكل د: اتحاد المشيج الأنثوي بالمشيج الذكري داخل الكيس الجنيني.



شكل ج: نمو أنابيب اللقاح



استغلال الوثائق:

- 1- عرف الأبر المباشر والأبر غير المباشر. اعتمادا على مكتسباتك.
- 2- استخراج عوامل الأبر.
- 3- املأ الفراغات بما يناسب في الشكل (د) الوثيقة (1) ثم صف ما يحدث انطلاقا من إنبات حبة لقاح على الميسم حتى التقاء المشيجين الذكري والأنثوي داخل الكيس الجنيني اعتمادا على شكل ج ود.